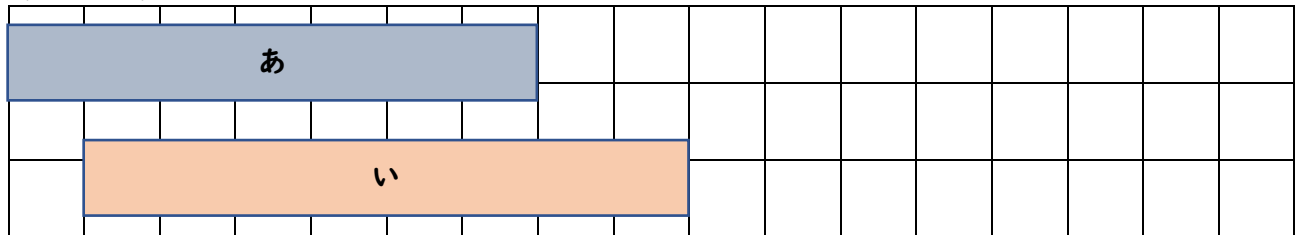


どっちが ^{なんセンチメートル} 何 c m ^{なが} 長い?③

(月 日)

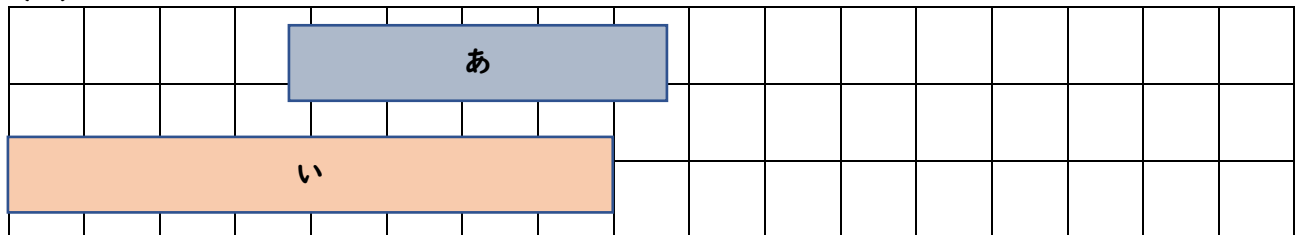
○ものさしで ^{なが} 長さをはかって どちらが ^{なんセンチメートル} 何 c m ^{なが} 長いかを
こたえよう!

(みほん)



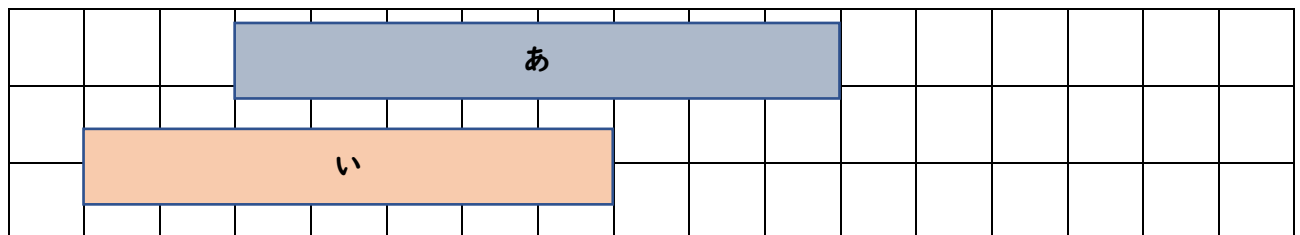
が よりも 長い。

(1)



が よりも 長い。

(2)



が よりも 長い。